

**Asociația Inteligent**  
în colaborare cu  
**Editura Nomina**

**CONCURSUL „Micii exploratori”**  
**O călătorie prin Europa**

**clasa I**  
**Anul școlar 2025-2026**

**\* evaluare gratuită \***

etapa finală  
**aprilie 2026**

Numele: \_\_\_\_\_

Inițiala prenumelui tatălui: \_\_\_\_\_

Prenumele: \_\_\_\_\_

Școala de proveniență: \_\_\_\_\_

Loc. \_\_\_\_\_ Jud. \_\_\_\_\_


învățător \_\_\_\_\_

| Nume și prenume<br>supraveghetori: | Semnătura |
|------------------------------------|-----------|
|                                    |           |
|                                    |           |

Toate subiectele sunt obligatorii. Timpul de lucru este de 45 de minute pentru copii.

1. Scrie în cerculeț ordinea imaginilor respectând ordinea calendaristică a datelor.






2. Stabilește dacă afirmațiile sunt false (F) sau adevărate (A).

- |   | A                        | F                        |
|---|--------------------------|--------------------------|
| ● Păstrăvul, pelicanul sunt păsări.                                       | <input type="checkbox"/> | <input type="checkbox"/> |
| ● Ursul hibernează.   | <input type="checkbox"/> | <input type="checkbox"/> |
| ● Corpul crapului este acoperit cu pene.                                  | <input type="checkbox"/> | <input type="checkbox"/> |
| ● Scufița-Roșie se întâlnește, în poveste, cu un lup.                     | <input type="checkbox"/> | <input type="checkbox"/> |
| ● Furnica și albina sunt exemple pentru hărnicie.                         | <input type="checkbox"/> | <input type="checkbox"/> |
| ● Cuvântul „liliac” reprezintă, după caz, un animal-mamifer sau o plantă. | <input type="checkbox"/> | <input type="checkbox"/> |


3. Indică cu o săgeată pe desen, partea corpului notată pe etichetă.



trunchi



picioare



trunchi

înotătoare



cap

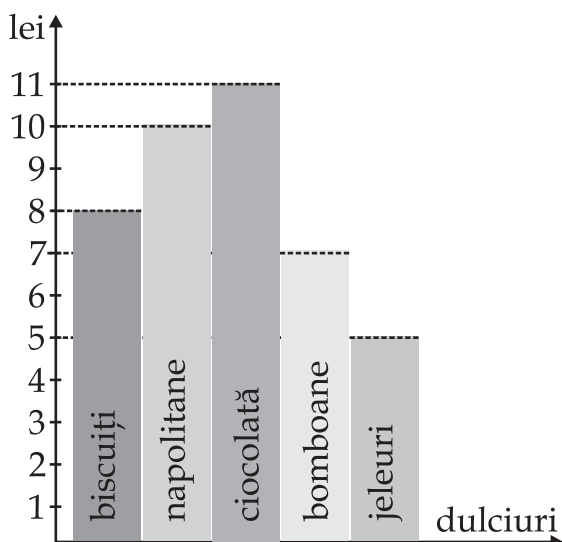
4. Caută în careu și încercuiește denumirea fiecărui animal reprezentat prin ilustrațiile de mai jos.



|   |   |   |   |   |   |
|---|---|---|---|---|---|
| M | A | R | I | C | I |
| U | R | C | E | R | B |
| A | L | U | P | C | I |
| L | I | P | U | R | S |
| C | A | P | R | A | M |
| C | E | R | E | U | L |



5. Graficul de mai jos reprezintă cheltuielile săptămânale ale Biancăi pentru dulciurile preferate cumpărate într-o săptămână.  
Scrie în tabel denumirea dulciurilor, în ordinea preferințelor Biancăi, precum și sumele cheltuite pentru fiecare.



| Care este produsul? | Care este prețul? |
|---------------------|-------------------|
| ...                 | ...               |
| ...                 | ...               |
| ...                 | ...               |
| ...                 | ...               |
| ...                 | ...               |