

Asociația InteligenT
în colaborare cu
Editura Nomina

CONCURSUL „Micii exploratori”
O călătorie prin Europa

clasa a II-a
Anul școlar 2025-2026

*** evaluare gratuită ***

etapa finală
aprilie 2026

Numele: _____

Inițiala prenumelui tatălui: _____

Prenumele: _____

Școala de proveniență: _____


Loc. _____ Jud. _____


învățător _____

Nume și prenume supraveghetori:	Semnătura





Toate subiectele sunt obligatorii. Timpul de lucru este de 45 de minute pentru copii.


1. Care dintre numerele următoare nu se împart în același timp la 3 și 4?









2. Efectuează operațiile matematice folosind codul de mai jos:

	+	...	=	
+		+		+
...	+	...	=	...
=		=		=
	+		=	...



-  → 2
-  → 4
-  → 6
-  → 8

3. Rezolvă următoarele probleme:

A. Câți pui poate naște o ursoaică, dacă numărul acestora este cel obținut prin adăugarea la diferența numerelor 6 și 3 a numărului cu 8 mai mic decât 10?



