

**Asociația InteligenT**  
în colaborare cu  
**Editura Nomina**

**CONCURSUL „Micii exploratori”**  
**O călătorie prin Europa**

**clasa pregătitoare**  
**Anul școlar 2016-2017**

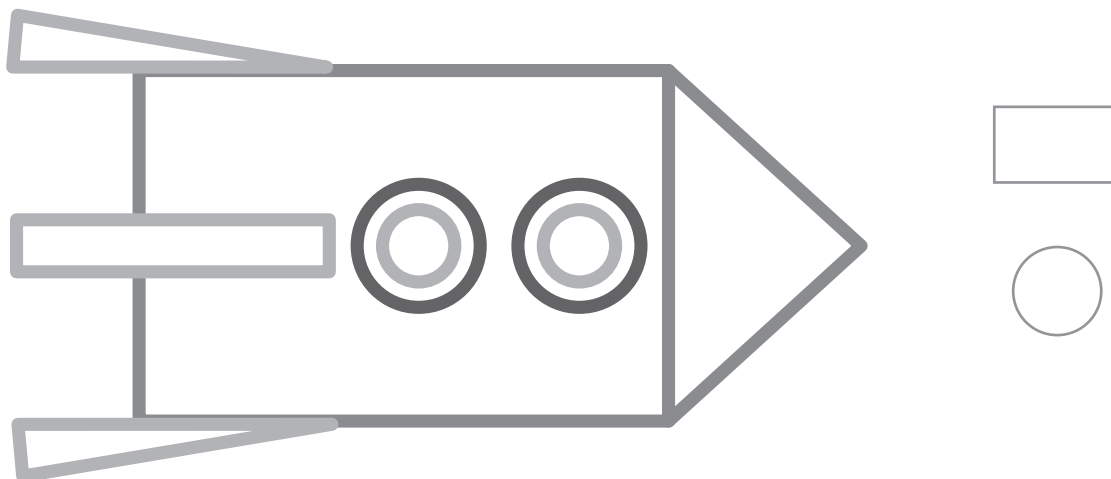
**\* evaluare gratuită \***


etapa finală  
**aprilie 2017**

Numele: _____	
Inițiala prenumelui tatălui: _____	
Prenumele: _____	
Școala de proveniență: _____	
_____	
Loc. _____	Jud. _____
învățător _____	
Nume și prenume supraveghetori:	Semnătura

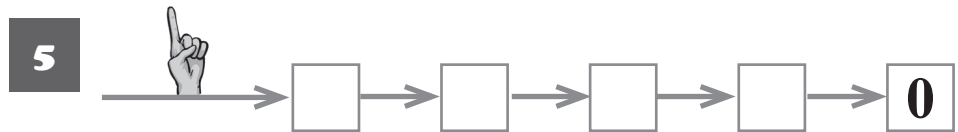
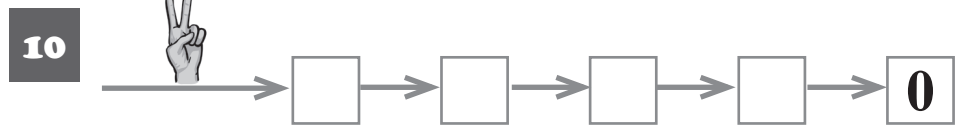
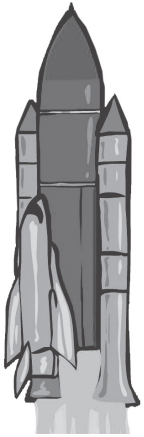
Toate subiectele sunt obligatorii. Timpul de lucru este de 45 de minute pentru copii. Se vor folosi creioane colorate diferite.

1. Racheta din imaginea de mai jos este alcătuită din mai multe figuri geometrice. Notează, în spațiul dat, câte dreptunghiuri și câte cercuri apar în desen.





2. Ajută-i pe ALI și ELI să numere descrescător până la lansare:



3. Completează propozițiile, conform modelului:

<b>P</b> aula <b>p</b> regătește ...	→	orhidee.
Dana dăruiește doi...	→	prăjiturile.
Ana aduce...		cățelul.
Oana oferă...		vesel.
Viorel vine cu...		dinozauri.
Carmen caută...		alune.

4. Cursa insectelor

Albina, greierele și buburuza s-au luat la întrecere de salturi pe ciuperci. Descoperă regula de numerotare a ciupercilor și completează numerele lipsă.

