

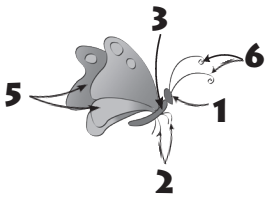


2. Notează denumirea fiecărei părți indicate de săgeată.



1

2

3

4

5

6

7

3. Alege, încercuind, litera corespunzătoare variantei corecte.

✓ Păpădia, ienupărul, cartoful, lupul, cameleonul sunt:

A. plante;            B. animale;            C. viețuitoare.

✓ Trifoiul, roinița, busuiocul sălbatic se dezvoltă în:

A. poieni;            B. livadă;            C. grădina de zarzavat.

✓ Castravetele, pătlăgeaua roșie, morcovul se cultivă:

A. la deal;            B. la munte;            C. în grădinile de zarzavat.

✓ Bradul, pinul, molidul alcătuiesc păduri de:

A. foioase;            B. conifere.

✓ Stejarul, teiul, plopul alcătuiesc păduri de:

A. foioase;            B. conifere.

4. Încercuiește DA, dacă enunțul este adevărat, și NU, dacă acesta este fals:

• Culorile unor animale le ajută să se ascundă de dușmani.            DA    NU

• Rațele și găștele sălbatice, pelicanii, rândunelele pleacă de la noi iarna și se întorc la începutul primăverii.            DA    NU

• Păsările se înmulțesc prin ouă.            DA    NU

- Animalele din zonele înghețate au un strat de grăsime sub piele, care le ajută să suporte frigul. DA NU
- Rațele înoată mai greu deoarece au degetele de la picioare unite printr-o membrană. DA NU

5. Ajută bufnița să unească fiecare lună cu anotimpul corespunzător.



*Primăvara*




Ianuarie

Iulie

Februarie

August

*Vara*



Martie

Septembrie

*Toamna*



Aprilie

Octombrie

Mai

Noiembrie

*Iarna*



Iunie

Decembrie